

دستان و دستارنامه

به نام خدا

نام و نام خانوادگی :

به از مومن با صفی از میهن

با بار بار، به معنای **تلاوت** و **تلاوت** ۲ اتمام عدم‌های سه رقمی را بسازید و بنویسید.

| | | |
|---|---|---|
| ۲ | ۵ | ۷ |
|---|---|---|

این عدد‌های که نوشته‌اید به **عدد زوج** بنویسید.

در جای خالی علامت $(> = <)$ بگذارید.

$200 + 85 + 200 \bigcirc 400 + 80 + 5$

$941 \bigcirc 9$ صدای **د** و **ه** تایی و **ی** تایی


با توجه به شکل در جای خالی عدد مناسب بنویسید.

اعداد :

با حروف :

| | | |
|-----|-----|-----|
| ۱۰۰ | ۱۰۰ | ۱۰۰ |
| ۱۰ | ۱۰ | ۱۰ |

الساعة



الساعة _____ و _____ دقيقة است.

یک ربع بعد ساعت جدید می‌شود ؟ _____ و _____ دقیقه

مقدار صیرفتن عقربه‌ی سرریز چند قسمت از صفحه است ؟ _____

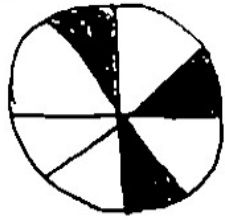
به عدد‌های زیر را با حذف یک یا یک دو هتال به صورت تقریبی بنویسید.

۳۵۸ → ۷۸۳ → ۵۹۲ →

جمع و تفریق کنید.

$$\begin{array}{r} 950 \\ - 428 \\ \hline 522 \end{array}$$

$$\begin{array}{r} 400 \\ + 147 \\ \hline 547 \end{array}$$



صفت از صفت

۷ وجه تشریح از شکل رنگی شده است؟




صفت از صفت

۱- امین ۹۹ امتیاز داشت. بیش سوال پاسخ درست داد و ۷ امتیاز کسوفت
سین بیش سوال درست انتخاب جواب داد و ۹ امتیاز از دست داد. او چند امتیاز دارد؟



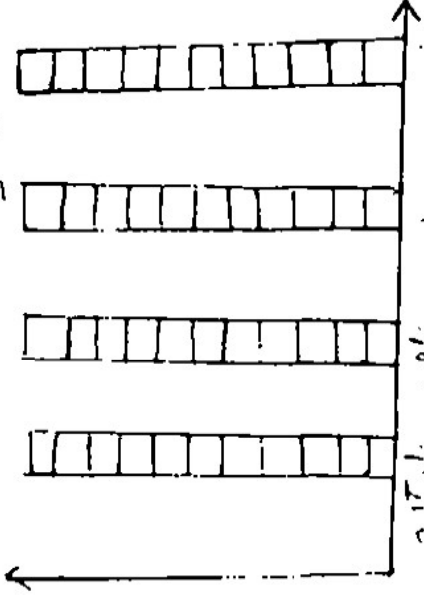
آب می شود



آب می شود

برای هر شکل یک عبارت صورت بنویسید.

۱- امین در سال تحصیل که کتاب داستان، که کتاب علوم، که کتاب مذهب و کتاب شعر از کتاب خانگی
صدر را اجازت گرفته و خواند. نمودار کتابها را خوانده شده را کامل کنید.



۲- مفرقها برآورد نوع آب به شرحی که دارد را بچرا؟